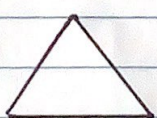
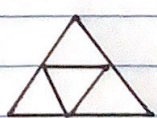
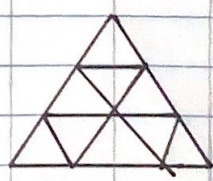


Actividades que se Sugieren Para Futuros docentes

1.	Triángulo	Cuadrado	Pentágono	Hexágono
Numero de Lados	3	4	5	6
Numero de triángulos que se forman al dividir el Poligono con diagonales desde un vertice.	1	2	3	4
Suma de Angulos	180°	360°	540°	720°

2.	Caso1	Caso2	Caso3	Caso4	Caso5	Caso6
Numero de diametros	1	2	3	4	5	6
Numero de sectores que se forman	2	4	6	8	10	12

3.	Caso 1	Caso 2	Caso 3
Figura			
Numero de Triangulos	1	4	9
Perimetro de triangulo	3	6	9